

31. Републичко такмичење, Београд 2023.

Тест – III б категорија, III група

Име и презиме: \_\_\_\_\_

1. У линијске системе са датим кључевима уписати задате тонове као четвртине, водећи рачуна о правилу писања нотних вратова:

(24 поена)

Top staff notes:  $a^1$   $cis^1$   $g$   $e^1$   $h^1$   $a$   $d^1$   $gis^1$   $b$   $fis^1$   $b^1$   $fis$

Bottom staff notes:  $f^1$   $a$   $c$   $d^1$   $fis$   $g^1$   $e$   $gis$   $d$   $es^1$   $cis^1$   $h$

2. а) Допунити тактове нотним вредностима које недостају:

(5 поена)

- б) Одредити врсту такта у датој мелодији и исписати тактице:

(7 поена)

- в) Преписати мелодију у такт 3/4:

(8 поена)

3. а) Изградити интервале у смеру навише од задатог тона:


(10 поена)



m2
v3
m3
ч5
ч4

б) Препознати следеће интервале:


(10 поена)



\_\_\_\_\_

4. а) Изградити трозвуке у смеру навише од задатог тона:


(12 поена)



Д 5  
3
М 5  
3
М 5  
3
Д 5  
3

б) Препознати следеће трозвуке:

(8 поена)



\_\_\_\_\_


5. а) Записати предзнаке за следеће лествице у оба кључа:

(8 поена)

<i>F дур</i>	<i>B дур</i>	<i>h мол</i>	<i>e мол</i>
--------------	--------------	--------------	--------------

б) Дописати изостављене тонове у задатим лествичним низовима:


(4 поена)



h мол мелодијски

I II III IV V VI VII I

Detailed description: A musical staff in treble clef showing the h minor scale. The notes are: I (C4), II (D4), III (E4), IV (F4), V (G4 with a sharp sign), VI (A4), VII (B4), and I (C5). There are small square boxes above the staff indicating where notes are missing: above II, III, VI, and VII.




B дур

I II III IV V VI VII I

Detailed description: A musical staff in treble clef showing the B major scale. The notes are: I (B3 with a flat sign), II (C4), III (D4), IV (E4), V (F4), VI (G4), VII (A4), and I (B4 with a flat sign). There are small square boxes above the staff indicating where notes are missing: above III, IV, VI, and VII.

в) Одредити у којој је лествици дати тетрахорд доњи, а у којој горњи:

(4 поена)



Detailed description: A musical staff in bass clef showing a tetrachord of four notes: G2, F2, E2, and D2.

д.т. \_\_\_\_\_

г.т. \_\_\_\_\_

Укупно \_\_\_\_\_ од 100 поена

Жири:

1. \_\_\_\_\_
2. \_\_\_\_\_
3. \_\_\_\_\_