

Име и презиме: _____

1. Записати првих шеснаест тонова аликуотног низа од тона „А“:

(8 поена)

1 2 3 4 5 6 7 8 9 10 11 12 13 14 15 16

2. Именовати тонове у датим кључевима, укључујући и октаву којој припадају:

(12 поена)

3. На задатим тоновима изградити интервале у правцу стрелице:

(8 поена)

m6 ↓ y5 ↓ v9 ↑ m3 ↓ ч5 ↑ m7 ↑ y3 ↑ y7 ↓

4. а) Изградити акорде (квинтакорде и обртаје) ако је задати тон:

(7 поена)

терца кварта основни тон секста квинта секста кварта

У5 М6 П5 М6 Д5 Д6 М6
3 4 3 3 3 3 4

б) У задатим тоналитетима изградити акорде:



(12 поена)



As дур: D^4_3 fis мол харм: D^2 cis мол мелод: D^7 B молдур: D^6_5 H молдур: VII^7 g мол харм: VII^7

в) Уписати у којим лествицама (дур, молдур, све врсте молских лествица) се могу наћи следећи квинтакорди на датим ступњевима:

(15 поена)



IV _____
V _____
VI _____


II _____
III _____
IV _____

5. а) Изградити тетраорде навише од задатих тонова:

(4 поена)



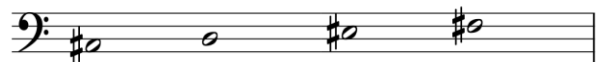

дурски

МОЛСКИ





б) Одредити врсту и многостраност тетраорада:

(6 поена)



в) Изградити хроматске лествице у смеру стрелице :

(10 поена)




fis мол ↓

Es дур ↑

г) Препознати модусе и обележити карактеристичан интервал:

(10 поена)





6. Одредити лествичну основу у датим мелодијама (за молске лествице написати врсту):

а)

(8 поена)



б)



Укупно _____ од 100 поена

Жири:

1. _____
2. _____
3. _____