

Име и презиме: _____

1. Записати првих шеснаест тонова аликуотног низа од тона B :

(8 поена)

1 2 3 4 5 6 7 8 9 10 11 12 13 14 15 16

2. Именовати тонове у датим кључевима, укључујући и октаву којој припадају:

(12 поена)

3. На задатим тоновима изградити интервале у правцу стрелице:

(8 поена)

v6 ↓ ч5 ↓ v9 ↑ м3 ↓ м7 ↑ п4 ↑ y3 ↑ y7 ↓

4. а) Изградити акорде (квинтакорде и обртаје) ако је задати тон:

(7 поена)

терца кварта основни тон секста квинта секста кварта

У5
3

Д6
4

П5
3

М6
3

Д5
3

Д6
3

М6
4

б) У задатим тоналитетима изградити акорде:


(12 поена)



Des дур: $D4$ 3 *f* мол харм: $D2$ *es* мол мелод: $D7$ *H* мол дур: $D6$ 5 *B* мол дур: $VII7$ *h* мол харм: $VII7$

в) Уписати у којим лествицама (дур, молдур, све врсте молских лествица) се могу наћи следећи квинтакорди на датим ступњевима:

(15 поена)



IV _____
V _____
VI _____



II _____
III _____
IV _____

5. а) Изградити тетра хорде навише од задатих тонова:

(4 поена)




дурски

МОЛСКИ





б) Одредити врсту и многостраност тетра хорада:

(6 поена)



в) Изградити хроматске лествице у смеру стрелице :

(10 поена)



f мол ↓

H дур ↑

г) Препознати модусе и обележити карактеристичан интервал:

(10 поена)

6. Одредити лествичну основу у датим мелодијама (за молске лествице написати врсту):

а)

(8 поена)

б)

Укупно _____ од 100 поена

Жири:

1. _____
2. _____
3. _____