

31. Републичко такмичење, Београд 2023.

Тест – VII б категорија, I група

Име и презиме: _____

1. Записати првих осам тонова аликвотног низа од тона As:

(4 поена)

2. У датим кључевима уписати задате тонове:

(7 поена)

3. а) На задатим тоновима изградити интервале у правцу стрелице:

б) Препознати и обележити интервале:

(8 поена)

4. а) На задатим тоновима изградити акорде у правцу стрелице:

б) Препознати и обележити акорде:

(16 поена)


ц) У задатим тоналитетима изградити акорде:

(18 поена)

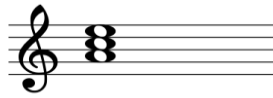
Es дур: D4 3 g мол харм: D2 fis мол мелод: D7 A молдур: D6 5 B молдур: D4 3 h мол харм: D6 5

д) Уписати у којим лествицама (дур, молдур, све врсте молских лествица) се могу наћи дати квинтакорди на главним ступњевима:

(15 поена)



I _____
IV _____
V _____




I _____
IV _____
V _____

5. а) Изградити тетраорде навише од задатих тонова:

(4 поена)






Молски



Фригијски

б) Одредити врсту и многостраност тетраорада:

(6 поена)



в) Написати хроматску А дур лествицу наниже:

(4 поена)



6. Одредити лествичну основу у датим мелодијама (за молске лествице написати врсту):

а)

(4 поена)



б)



7. Транспоновати мелодију у с - мол:

(6 поена)

The image shows a musical score for a transposition exercise. The top staff is in 3/4 time and contains a melody in B-flat major. The bottom staff is empty for the student's transcription.

8. а) Навести италијански израз за дату динамику:

(8 поена)

Полутихо _____

Најјаче _____

б) Написати графичке ознаке за дату динамику:

pianissimo _____

mezzoforte _____

Укупно _____ од 100 поена

Жири:

1. _____
2. _____
3. _____