

31. Републичко такмичење, Београд 2023.

Тест – III б категорија, I група

Име и презиме: _____

1. У линијске системе са датим кључевима уписати задате тонове као четвртине, водећи рачуна о правилу писања нотних вратова:

(24 поена)

b fis¹ b¹ fis a¹ cis¹ g e¹ h¹ a d¹ gis¹

d es¹ cis¹ h f¹ a c d¹ fis g¹ e gis

2. а) Допунити тактове нотним вредностима које недостају:

(5 поена)

- б) Одредити врсту такта у датој мелодији и исписати тактице:

(7 поена)

- в) Преписати мелодију у такт 3/4:

(8 поена)

3. а) Изградити интервале у смеру навише од задатог тона:

(10 поена)

в3 м2 в2 ч4 ч5

б) Препознати следеће интервале:

(10 поена)

4. а) Изградити трозвуке у смеру навише од задатог тона:

(12 поена)

Д 5 М 5 М 5 Д 5
3 3 3 3

б) Препознати следеће трозвуке:

(8 поена)


5. а) Записати предзнаке за следеће лествице у оба кључа:

(8 поена)

D дур *F дур* *g мол* *e мол*


б) Дописати изостављене тонове у задатим лествичним низовима:

(4 поена)



A musical staff in treble clef showing the E major scale. The notes are: E (I), F# (II), G# (III), A (IV), B (V), C# (VI), D# (VII), and E (I). There are small square boxes above the staff indicating the positions of the missing notes: F# above II, G# above III, C# above VI, and D# above VII. Below the staff, the scale degrees are labeled with Roman numerals I through VII, and the text "е мол мелодијски" is written below the first degree.

I II III IV V VI VII I
е мол мелодијски




A musical staff in treble clef showing the B minor scale. The notes are: B (I), C (II), D (III), E (IV), F (V), G (VI), A (VII), and B (I). There are small square boxes above the staff indicating the positions of the missing notes: C above II, D above III, G above VI, and A above VII. Below the staff, the scale degrees are labeled with Roman numerals I through VII, and the text "В дур" is written below the first degree.

I II III IV V VI VII I
В дур

в) Одредити у којој је лествици дати тетракорд доњи, а у којој горњи:

(4 поена)



A musical staff in treble clef showing a four-note chord: C (I), E (II), G# (III), and B (IV).

Д.Т. _____

Г.Т. _____

Укупно _____ од 100 поена

Жири:

1. _____
2. _____
3. _____