


29. Републичко такмичење, Београд 2021.

ТЕСТ - VIIб категорија

Верзија 2.

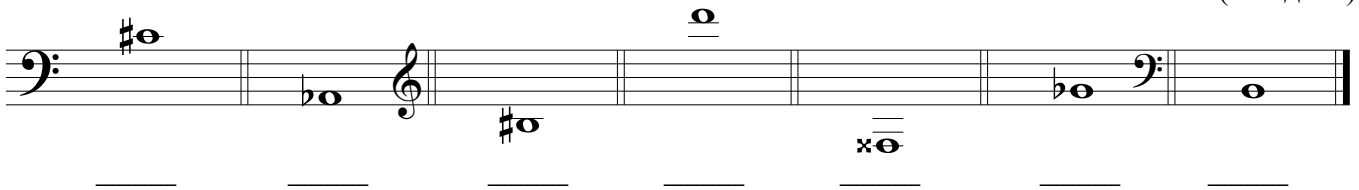
Име и презиме _____

1. а) Запиши ноте у тонском систему на основу задатих имена (10 бодова)



1Dis ges3 A fis2 es

б) На слободним линијама испод линијског система напиши имена задатих тонова (7 бодова)



2. Додај предзнаке тако да написана мелодија буде у задатом тоналитету

а) цис мол хармонски

(15 бодова, 1,5 бод по такту)



б) Ес молдур



3. а) Изгради интервале у правцу стрелице од задатих тонова

(24 бода)



dis2 П3↓
 B у5↑
 a B7↓
 fis1 у3↑
 c П4↓
 as1 B6↑
 cis2 M2↓
 H у4↑

Верзија 2.

б) Препознај записане интервале и одреди врсту и величину

(7 бодова)

4. а) Изгради трозвуке са обртајима у правцу стрелице

(14 бодова)

у₃⁶ ↓ М₄⁶ ↑ Д₃⁵ ↓ П₃⁶ ↑ у₄⁶ ↓ Д₃⁶ ↑ М₃⁶ ↓

б) Препознај записане трозвуке и одреди врсту

(7 бодова)

5. У задатом тоналитету изгради Д7 са обртајима


(8 бодова)

Е дур $\begin{matrix} 7 \\ Д \\ 5 \\ 3 \end{matrix}$ ге мол мелодијски $\begin{matrix} 6 \\ Д \\ 5 \\ 3 \end{matrix}$ ха мол хармонски $\begin{matrix} 6 \\ Д \\ 4 \\ 3 \end{matrix}$ Ес молдур $\begin{matrix} 6 \\ Д \\ 4 \\ 2 \end{matrix}$

Верзија 2.

6. У мелодијском запису исправи и напиши тачан ритам (ортографија)

(8 бодова)



Укупно _____ од 100 бодова

Чланови жирија:
