


29. Републичко такмичење, Београд 2021.

ТЕСТ - IVб категорија

Верзија 1.


Име и презиме _____

1. а) Изгради интервале од задатих тонова навише (21 бод)



B6 M7 M3 M6 B7 Ч5 B2

б) Препознај интервале и обележи шифром (14 бодова)




2. У задатом мелодијском примеру препознај и обележи врсту квинтакорда (12 бодова)



3. У задатом мелодијском примеру упиши предзнаке е мол хармонског (9 бодова)



4. Мелодијски пример препиши у задати такт (12 бодова)



5. У написаном мелодијском примеру исправи ритмички погрешно написане тактове и напиши исправно у слободном нотном систему (12 бодова)

6. а) Изгради тетра хорде навише у задатим тоналитетима (12 бодова)

Ге дур
доњи тетра хорд

ге мол хармонски
горњи тетра хорд

Де дур
горњи тетра хорд

Бе дур
доњи тетра хорд

б) Одреди којим лествицама припадају написани тетра хорди (8 бодова)

Укупно _____ од 100 бодова

Чланови жирија:
